

## LA BEAUTÉ MATHÉMATIQUE SOUS LE REGARD INQUISITEUR DU GÉOMÈTRE

AZIZ EL KACIMI ALAOU

«...que de charme possède le regard qui saisit chaque signe.»

S. KIERKEGAARD (*Lettres des fiançailles*)

Mon œil reçoit de la lumière et je vois, à des degrés divers et de différentes manières. Je l'ai *aperçu* : je l'ai juste vu, j'ai constaté qu'il est là, qu'il est passé par là. Je l'ai *entrevu* : je l'ai vu rapidement, je l'ai croisé. Je l'ai *regardé* : je l'ai vu de façon volontaire. Tu as vu ce film ? Oui, je l'ai vu. Cela signifie que j'en ai *regardé* les scènes, *écouté* ce qui s'y disait, *suivi* le déroulement de l'histoire... et tout cela avec attention.

Je suis au musée. Mon ami m'interpelle :

- Tu as vu ce tableau ?
- Oui, je l'ai vu en passant devant tout à l'heure.
- Tu l'as bien regardé ?
- Non, j'ai juste jeté un coup d'œil dessus.
- Alors, prends un peu de ton temps, regarde-le bien et nous en parlerons.

Je m'assieds sur un banc, en face du tableau et me mets à le regarder. En fait, j'observe, c'est-à-dire je regarde avec attention. Que vois-je alors ? Des détails que je n'aurais pas vus si je ne m'étais pas attelé à regarder de près. La suite ? Elle est passionnante ! mais ce n'est pas tout à fait le propos pour le moment.

C'est ce qui se passe quand on regarde une figure géométrique, plus spécialement lorsqu'on essaie de résoudre un problème de géométrie en basse dimension (deux ou trois) où il est possible de dessiner et donc de visualiser. C'est de cela dont il s'agit dans ce texte : le **regard géométrique**. J'y livre un peu les impressions que j'en ai, mais seulement sur des exemples et à travers quelques expériences personnelles, sans nullement prétendre y développer un essai sur le langage sensoriel ou autre. J'y décris un certain nombre d'exemples où l'observation d'une figure intervient de manière fondamentale et montre quand le regard :

- est nécessaire,
- trompe,
- est dynamique,
- fait un clin d'œil à l'algèbre,
- met en parallèle graphe et expression analytique,
- est furtif et décoince,
- est enfin jeté sur une peinture.

Ce dernier point fait apparaître une différence entre le regard du géomètre et celui de l'artiste observateur ou l'historien de l'art comme on le verra.

## 1. Le regard est nécessaire

On prendra comme support le théorème qui suit dont l'énoncé a été formulé en 1840 par C.L. Lehmus et soumis à J. Steiner (éminent géomètre suisse de l'époque). Ce dernier en donna une solution et le théorème porte désormais son nom. Il y a eu d'autres démonstrations depuis lors, parmi lesquelles celle que je vais exposer.

*Soit  $ABC$  un triangle ; on note  $BB'$  le segment bissectrice de l'angle  $\widehat{ABC}$  et  $CC'$  celui de l'angle  $\widehat{ACB}$ . On suppose  $BB' = CC'$  ; alors  $ABC$  est isocèle de base  $BC$ .*

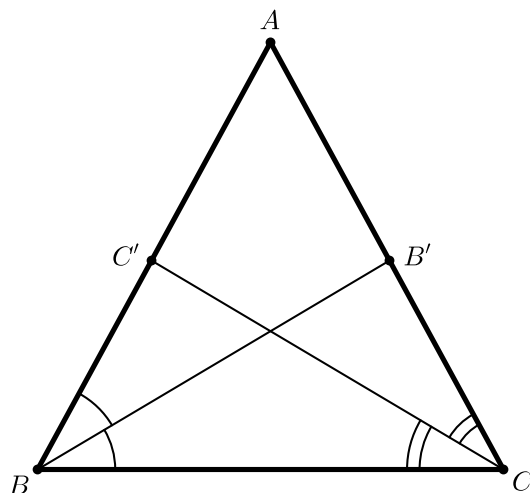


Fig. 1

Avant de savoir que c'est un théorème « important » de la géométrie plane (et qu'il porte un nom), j'ai découvert son énoncé dans les années 1980 : un des membres de notre équipe *Feuilletages* de l'époque à Lille 1 nous l'a posé comme exercice. Aucun de nous n'a su le faire ; lui non plus ne savait pas le faire, et il nous a même appris qu'un de ses camarades à l'ENS l'avait soumis à son Tonton (un brillant mathématicien du XXème siècle) qui a séché dessus. Ce qui m'a beaucoup intrigué (j'étais pleinement naïf ces années-là) : un problème de formulation si simple sur lequel calent de si grosses têtes ! Mais oui ! des casse-tête du genre peuvent donner du fil à retordre à n'importe qui ! Bref... j'ai passé quelques jours à chercher une démonstration mais sans succès. Quelques années plus tard, j'ai eu à faire un cours de géométrie élémentaire à des élèves « futurs enseignants ». Là, j'ai été obligé d'aller jusqu'au bout - dans la mesure de mes possibilités bien sûr ! - de tout problème que je commençais. Normal, il faut savoir résoudre soi-même un exercice avant de le soumettre à ses étudiants ! Je me suis souvenu de l'exercice sur les bissectrices et je me suis dit que ce serait une bonne idée de le traiter en séance de travaux dirigés. Il fallait donc avoir une preuve sous la main. J'ai fini par en dénicher une dans [1]. Je l'ai trouvée simple et sympathique mais le fait qu'elle ne soit pas la mienne me gênait. Je me suis alors mis dans la tête l'idée d'en

trouver une (autre) du même acabit. J'y suis arrivé même si cela m'a pris beaucoup de temps. C'est un bel exemple sur lequel on peut commenter un aspect de l'usage du **regard géométrique**.

Comme on ne voit pas a priori comment donner une preuve directe du théorème, on use d'un raisonnement par l'absurde : on suppose que le triangle  $ABC$  n'est pas isocèle (de base  $BC$ ) et on montre que  $BB' \neq CC'$ . Dans ce genre de tâche, on part d'un dessin de base (voir (Fig. 1)) où ne figurent que les données du problème.

On suppose  $\widehat{ABC} > \widehat{ACB}$  par exemple et on essaie d'arriver à  $BB' \neq CC'$  comme conclusion, ce qui contredit l'hypothèse. Mais la (Fig.1) ne donne pas suffisamment de renseignements et on n'y voit pas grand chose ; il faut rajouter des éléments pour retrouver la grandeur  $BB'$ , l'angle  $\widehat{ABC}$  ou  $\frac{\widehat{ABC}}{2}$ ... par exemple, un parallélogramme dont l'un des côtés est  $BB'$  et l'un des angles est  $\frac{\widehat{ABC}}{2}$  (comme dans la (Fig.3)). Une première chose est sûre : l'inégalité  $\widehat{ABC} > \widehat{ACB}$  donne  $\frac{\widehat{ABC}}{2} > \frac{\widehat{ACB}}{2}$  ; cette dernière combinée à l'hypothèse  $BB' = CC'$  fournit l'inégalité  $B'C > BC'$  qui nous sera utile dans la preuve. Pour justifier cette dernière, on utilise une propriété élémentaire en géométrie plane :

*Si deux triangles  $XYZ$  et  $X'Y'Z'$  sont tels que  $XY = X'Y'$  et  $XZ = X'Z'$ , alors  $\widehat{YXZ} > \widehat{Y'X'Z'}$  si, et seulement si,  $YZ > Y'Z'$ .*

On peut voir cela assez facilement et même de façon dynamique, pour « sentir » l'idée (c'est le cas de le dire !) que plus l'angle est grand plus le côté opposé l'est.

On prend deux tiges rectilignes ayant pour longueurs respectives  $XY = X'Y'$  et  $XZ = X'Z'$  ; on colle une extrémité de l'une sur une extrémité de l'autre de façon à ce qu'on puisse les faire pivoter autour du point où elles ont été collées. Pour simplifier, on maintient fixe l'une de ces tiges, qui représente par exemple les segments  $XY$  et  $X'Y'$  (on a superposé le point  $X'$  sur  $X$  et le point  $Y'$  sur  $Y$ ). Une position de la deuxième tige donne le triangle  $XYZ$  et une autre le triangle  $X'Y'Z'$  (cf. dessin de gauche dans (Fig.2)). Aux extrémités encore libres, on fixe un élastique d'une longueur assez petite (pour qu'il puisse déjà être tendu à sa longueur minimale). Lorsqu'on écarte la tige libre de celle qui est immobile, l'élastique se tend et prend une longueur de plus en plus grande.

Pour être plus sérieux, et donner une « vraie démonstration », il suffit de jeter un **regard géométrique** sur le dessin de droite de (Fig.2) : la médiatrice du segment  $[ZZ']$  passe par le point  $X$  ; elle partage son complémentaire dans le plan en deux demi-plans ouverts dont l'un contient les points  $Y = Y'$  et  $Z'$ , donc  $Y' = Y$  est plus proche de  $Z'$  que ne l'est  $Y = Y'$  du symétrique  $Z$  de  $Z'$ , c'est-à-dire qu'on a  $YZ > Y'Z'$ .

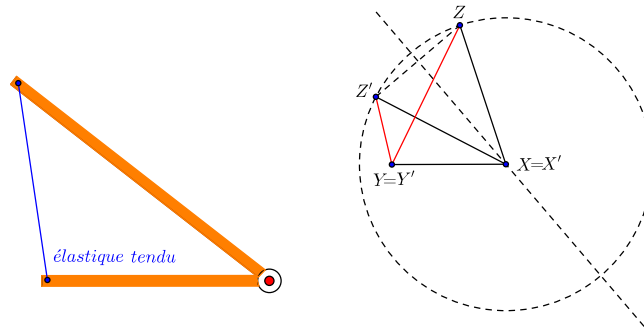


Fig. 2

Un éclaircissement apparaît mais les choses restent encore opaques, comme derrière une vitre couverte de buée : il faut nettoyer pour voir plus clairement. Continuons notre démarche. Quand on nie une conclusion, c'est pour arriver à la négation de l'hypothèse, en l'occurrence celle de l'égalité  $BB' = CC'$ .

L'égalité  $BB' = C'D$  et l'inégalité  $B'C > BC' = B'D$  suggèrent de s'intéresser aux deux angles  $\widehat{B'DC}$  et  $\widehat{B'CD}$ . Ils vont être alors tels que  $\widehat{B'DC} > \widehat{B'CD}$  ; d'où  $\widehat{C'DC} > \widehat{C'CD}$  qui implique  $C'C > C'D = BB'$  et qui amène à la contradiction de l'hypothèse  $BB' = CC'$ . Fin de la preuve !

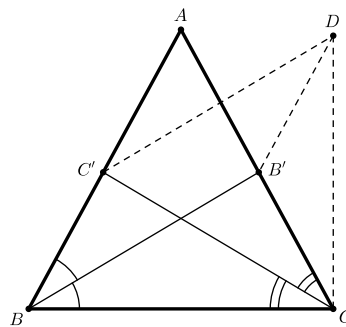


Fig. 3

## 2. Le regard qui trompe

Soient  $ABCD$  un carré de côté mesurant 1 et  $E, F, G$  et  $H$  les milieux respectifs des côtés  $DC, CB, BA$  et  $AD$ . Quelle est l'aire de l'octogone  $\mathcal{O} = IJKLMNPO$  ?

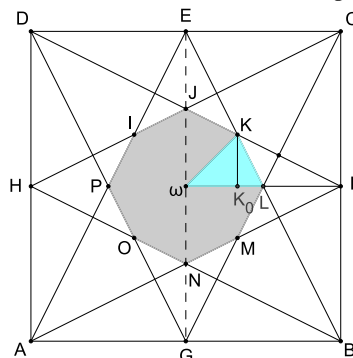


Fig. 4

Beau dessin avec le même décor sous toutes les coutures. Vu qu'on part d'un carré, qu'on considère les milieux de ses côtés et qu'on joint chacun d'eux aux extrémités du côté opposé, notre octogone naît de façon apparente avec beaucoup de symétrie. On le prend pour un octogone régulier. J'ai pensé cela pendant un moment, et je ne sais pas pourquoi auparavant je n'ai pas eu le réflexe de vérifier si c'est vrai ou pas.

- Il y a huit petits triangles constituant l'octogone  $\mathcal{O}$  :  $\omega IJ$ ,  $\omega JK$ ,  $\omega KL$ ,  $\omega LM$ ,  $\omega MN$ ,  $\omega NO$ ,  $\omega OP$  et  $\omega PI$ . Le premier regard suggère qu'ils sont tous isométriques. Ils le sont effectivement. D'abord les deux triangles  $\omega IJ$  et  $\omega JK$  sont symétriques par rapport à la droite  $(\omega J)$  ; ensuite  $\omega JK$  et  $\omega KL$  sont symétriques par rapport à la droite  $(\omega K)$ . Ces trois triangles sont donc isométriques. En répétant ce raisonnement, on montre que les huit triangles évoqués le sont aussi. Pour calculer l'aire de l'octogone  $\mathcal{O}$ , il suffit donc d'avoir celle de l'un de ces huit triangles, par exemple  $\omega KL$ . C'est le deuxième regard, qui nous recommande de ramener le calcul de l'aire de notre l'octogone à celui de figures plus simples.

Les deux regards évoqués, aussi géométriques soient-ils, ont tout de même été suivis d'une vérification détaillée au niveau du raisonnement.

- Le triangle  $KDE$  se déduit du triangle  $KFL$  par l'homothétie de centre  $K$  et de rapport  $-\frac{DE}{FL} = -2$ . Donc  $\frac{KF}{FD} = \frac{1}{3}$  ; par suite  $\frac{FK_0}{FH} = \frac{FK}{FD} = \frac{1}{3}$ . On en déduit  $FK_0 = \frac{1}{3}$  qui donne  $\omega K_0 = \omega F - FK_0 = \frac{1}{2} - \frac{1}{3} = \frac{1}{6}$ . ( $K_0$  est le pied de la hauteur issue de  $K$  du triangle  $\omega KL$ .) Comme le triangle  $\omega K_0K$  est rectangle en  $K_0$  et son angle  $\widehat{K\omega K_0}$  vaut  $\frac{\pi}{4}$ , il est isocèle de base  $\omega K$ , donc  $KK_0 = \omega K_0 = \frac{1}{6}$ .

- L'aire de l'octogone  $\mathcal{O}$  est donc :  $\mathcal{A}(\mathcal{O}) = 8 \cdot \mathcal{A}(\omega KL) = 8 \cdot \frac{\omega L \cdot KK_0}{2} = 8 \cdot \frac{1}{2} \cdot \frac{1}{4} \cdot \frac{1}{6} = \frac{1}{6}$ .

Revenons un peu sur l'erreur éventuelle qu'on pourrait commettre sur la nature de l'octogone  $\mathcal{O}$ . Sa régularité supposée impose aux huit triangles  $\omega IJ$ ,  $\omega JK$ ,  $\omega KL$ ,  $\omega LM$ ,  $\omega MN$ ,  $\omega NO$ ,  $\omega OP$  et  $\omega PI$  d'être isocèles de bases respectives les côtés opposés au sommet commun  $\omega$ . Or un examen précis, usant du théorème de Thalès, montre que les rapports  $\frac{\omega K_0}{\omega F}$  et  $\frac{\omega K}{\omega C}$  sont égaux. Donc  $\omega K = \frac{1}{3}\omega C = \frac{\sqrt{2}}{6}$  qui est différent de  $\frac{1}{4} = \omega L$ . Par suite le triangle  $\omega KL$  n'est pas isocèle. Mais comme  $\frac{1}{4}$  est « voisin » de  $\frac{\sqrt{2}}{6}$ , sur la figure, on n'arrive pas à voir à l'œil nu cette différence, ce qui la rend trompeuse et laisse penser que l'octogone  $\mathcal{O}$  est régulier.

Cet exemple met en garde : quand on use du regard géométrique, il ne faut jamais omettre d'aller jusqu'au bout pour être certain de ce qu'on serait tenté d'affirmer.

### 3. Le regard dynamique

Est-ce la figure qui se meut ou le regard qui cherche où elle se trouve ? Peu importe,

toute réponse qu'on donnerait serait bonne. Essayons plutôt de comprendre sur un exemple ce que cela signifie.

Soit  $ABC$  un triangle non dégénéré. Construire géométriquement un carré  $MNPQ$  inscrit dans ce triangle. Cela signifie, par exemple, que le point  $M$  est sur le segment  $[AB]$ ,  $N$  sur  $[AC]$  et  $P$  et  $Q$  sur  $[BC]$  (cf. (Fig.5)).

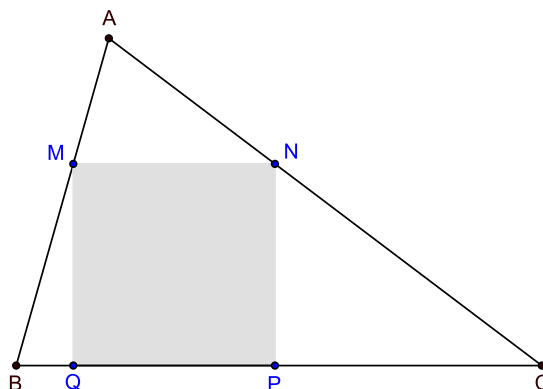


Fig. 5

Comme tout problème de construction géométrique, une bonne manière de le résoudre est de supposer que la construction est faite. À cet effet, on commence par faire un dessin pour voir des éléments dedans. On part d'un carré  $MNPQ$ . Sur la droite  $(PQ)$  en dehors du segment ouvert  $]QP[$ , on choisit un point  $B$  du côté de  $Q$  et un point  $C$  du côté de  $P$  de telle sorte que les droites  $(BM)$  et  $(CN)$  se coupent en un point  $A$ . C'est à une telle figure qu'on veut arriver mais en partant du triangle  $ABC$  qui est donné. On constate un certain nombre de choses :

- (i) Les deux angles  $\widehat{ABC}$  et  $\widehat{ACB}$  doivent être aigus (inférieur ou égal à un droit) si on veut que le côté  $BC$  du triangle porte le côté  $PQ$  du carré.
- (ii) Pour déterminer le carré, il suffit de connaître par exemple  $P$ . En effet,  $N$  sera l'intersection de  $[AC]$  avec la perpendiculaire à  $[BC]$  en  $P$ ,  $M$  l'intersection de la parallèle passant par  $P$  au côté  $BC$  et le côté  $AB$  et enfin  $Q$  la projection orthogonale de  $M$  sur  $[BC]$ .
- (iii) Soit  $\lambda \in \mathbb{R}_+$ . L'homothétie  $h$  de centre  $A$  et de rapport  $\lambda$  transforme le carré  $\mathcal{C} = MNPQ$  en un carré  $\mathcal{C}_\lambda = M_\lambda N_\lambda P_\lambda Q_\lambda$  dont le côté  $M_\lambda N_\lambda$  reste constamment parallèle au segment  $[BC]$ . Pour  $\lambda < 1$ , le carré  $\mathcal{C}$  se contracte et se réduit au point  $A$  lorsqu'on arrive à  $\lambda = 0$  ; pour  $\lambda > 1$ , il se dilate et à un certain moment son côté  $M_\lambda N_\lambda$  se confond avec la base  $BC$  du triangle  $ABC$ . On peut voir tout cela dans les trois dessins de la (Fig.6).

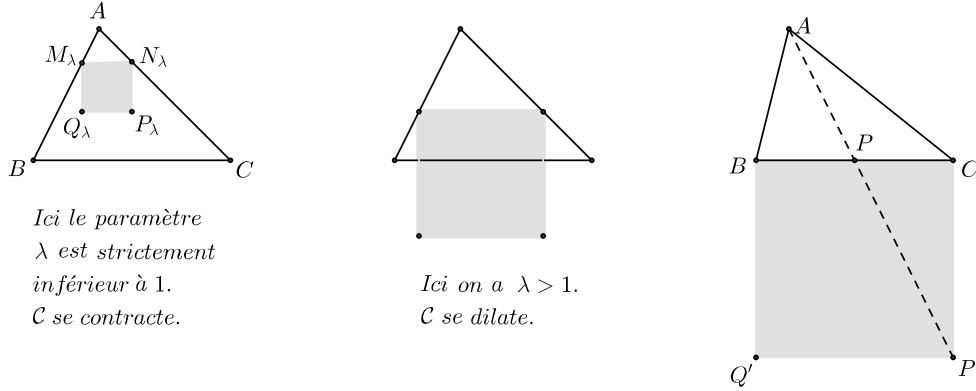


Fig. 6

- (iv) Comme  $h$  envoie  $\mathcal{C}$  sur  $\mathcal{C}_\lambda$ , l'inverse  $h^{-1}$  va envoyer  $\mathcal{C}_\lambda$  sur  $\mathcal{C}$ . L'avantage est que la construction de  $\mathcal{C}_\lambda$  est soumise à moins de contraintes que celle de  $\mathcal{C}$ . Et c'est la construction de l'un des  $\mathcal{C}_\lambda$  qu'on va faire effectivement.
- (v) On construit n'importe lequel des carrés  $\mathcal{C}_\lambda$  en question. Par exemple  $BCP'Q'$  (dessin de droite sur la (Fig.6)). L'homothétie qui le ramène vers l'un des carrés  $MNPQ$  cherchés (a priori il n'est pas le seul) envoie le point  $P'$  sur le point  $P$ ; donc  $P$  est l'intersection de la droite  $(AP')$  avec le segment  $[BC]$ . Comme on l'a déjà remarqué au point (ii), la connaissance de ce point  $P$  suffit à avoir le carré  $MNPQ$ .
- (vi) On a en même temps montré l'unicité du carré qu'on cherche lorsque on décide de mettre les points  $P$  et  $Q$  sur  $BC$ . En fait, si les trois angles sont strictement aigus, il y a trois solutions : chaque côté du triangle peut héberger un côté du carré. Deux solutions si l'un des angles est droit. Si l'un des angles est strictement obtus (strictement plus grand qu'un droit), seul son côté opposé peut héberger un côté du carré, donc il n'y a qu'une seule solution.

Notre carré  $MNPQ$  ne peut pas être construit directement sur le triangle  $ABC$ . Nous avons dû chercher ailleurs un autre carré  $BCP'Q'$  que nous avons transformé en celui qui nous intéresse : nous l'avons mis en mouvement dans l'espace et son homogénéité. Signalons en passant que la notion d'homogénéité est très importante en mathématiques. Elle l'est aussi en philosophie ! Voici ce qu'en disait Sartre par exemple dans [4] :

**« Le mouvement est pur changement de lieu d'un ceci demeurant par ailleurs inaltéré, comme le montre assez le postulat de l'homogénéité de l'espace. »**

C'est l'inaltération de la forme : dans notre exemple, le carré a beau changer de taille

mais reste toujours un carré. C'est même sûrement le « même carré » vu à avers des lunettes différentes !

La géométrie nourrit nos yeux tous les jours : elle est présente dans tous les coins de notre espace de vie. C'est certainement (ou c'était !) la partie la plus plaisante par laquelle on débute l'apprentissage des mathématiques à l'école (c'est le souvenir que j'en ai personnellement). Pendant longtemps, elle avait une place de choix aussi bien dans le secondaire que dans le supérieur, et c'était plus que légitime. Mais, ces dernières années, pour des raisons laissées tout le temps sombres (délibérément ou par ignorance), un bon nombre de décideurs l'ont amputée. Le pire : beaucoup de membres de la communauté mathématique applaudissent un tel acte. J'en étonnerais plus d'un si je disais que certains d'entre eux vont jusqu'à interdire à leurs étudiants de faire des dessins en cours d'algèbre linéaire :

- Je ne veux rien savoir, ne me dites pas qu'un noyau est un plan !
- Eh...comment ça, Professeur !
- Non ! non ! et non ! je ne veux pas entendre ça, je vous l'interdis !

Vampirisés, les pauvres. Petite histoire (rien ne vaut les faits réels) qui montre que ces étudiants étaient obligés de rester dans les rangs impartis et ne rien tenter d'autre.

#### 4. Clin d'œil à l'algèbre

J'ai cette « sale habitude » de commencer de temps en temps une séance de travaux dirigés par un petit test. Je pose la question aux étudiants :

- Est-il possible de diagonaliser la matrice  $A$  d'une rotation du plan euclidien de centre l'origine et d'angle 90 degrés ?

Je m'attendais à une réponse rapide (géométrique bien entendu) ; rien de tout cela, on n'y pense même pas. Mais on sort la bonne recette du chef : on retranche  $\lambda$  de tous les termes diagonaux, on calcule le déterminant, puis le discriminant (il le faut absolument ?) et paf, celui-ci est négatif.

- Monsieur, pas de solutions réelles, on ne peut donc pas diagonaliser  $A$ .
- C'est parfait ! mais que signifie cela du point de vue géométrique ? leur dis-je.
- On ne sait pas ! On ne nous a jamais rien dit là-dessus et on nous déconseille de faire des dessins. On doit se contenter de calculer.

Oui, en effet, seul le calcul convainc. Tout s'arrête là. Je n'étais pas étonné de cette réaction et j'avais du mal à comprendre pour quelle raison on ne peut pas (ou on ne doit pas) leur expliquer l'aspect géométrique qu'il y a derrière. Je décide de réparer (ce que je n'ai jamais cassé). C'est alors tout le tralala « valeur propre, vecteur propre... » qu'il fallait reprendre, mais je passe par dessus tout pour ne retenir que le



fait (sur lequel finalement on s'est mis d'accord) que l'existence d'une valeur propre non nulle implique celle d'un vecteur non nul dont la direction (c'est-à-dire la droite qui le « porte ») reste la même sous l'effet de l'application linéaire. Je leur demande de dessiner le plan euclidien (celui de tout le monde : deux axes perpendiculaires portant chacun un vecteur de longueur 1 d'origine le point d'intersection) ; ils le font ; ensuite de prendre un vecteur non nul et lui appliquer la rotation ; ils le font.

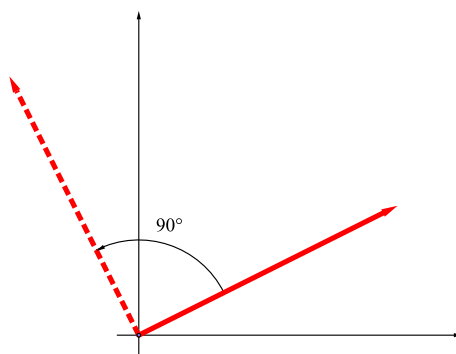


Fig. 7

- Ah oui, tous les vecteurs tournent d'un quart de tour, s'écrient-ils ; aucune direction ne reste la même.

- Et donc ?

- Il n'y a pas de valeur propre réelle,  $A$  n'est pas diagonalisable, s'empressent-ils de conclure.

Leur joie fut immense de découvrir en « voyant avec leurs yeux » (au sens propre du terme) le « phénomène valeur propre et vecteur propre ». Ils en connaissent la définition, par la simple phrase habituelle (qu'ils récitent) : *On dit que  $\lambda$  est valeur propre de l'endomorphisme  $f$  s'il existe un vecteur non nul  $u$  tel que  $f(u) = \lambda u$  ; on dit alors que  $u$  est un vecteur propre associé à  $\lambda$ . Et tout reste là. Dommage ! ça laisse l'enseignement qu'ils subissent totalement incomplet.*

Continuons ! Nous allons voir qu'il n'y a pas que l'algèbre linéaire à qui le **regard géométrique** fait des clins d'œil.

## 5. Graphe ou expression analytique ?

Plus précisément : *Faut-il penser à une fonction par son expression analytique ou par son graphe ?* Examinons cela sur un problème plus concret : *Exhiber une suite de fonctions continûment dérivables sur l'intervalle  $[-1, 1]$  qui converge uniformément vers  $f$  continue non dérivable* (histoire de montrer que l'espace des fonctions continûment dérivables sur  $[-1, 1]$  n'est pas complet pour la norme uniforme).

J'ai souvent posé cette question en Master et, toujours, les étudiants ne sont tentés que par la forme analytique de chacune des fonctions. Ils y passent du temps, et en vain.

- Pourquoi vous n'essayez pas géométriquement ? leur dis-je à chaque fois.
- Comment ça, géométriquement, Monsieur ? c'est de l'analyse ? rétorquent-ils.

Je leur suggère alors de bien se rappeler pourquoi la fonction  $f(x) = |x|$  n'est pas dérivable en 0, de tracer son graphe et de le considérer comme un petit ravin dans lequel on jette un cerceau (cercle) de diamètre  $\frac{1}{n}$ . Ensuite, faire varier  $n = 1, 2, \dots$  et laisser le reste à l'imagination. Ils se demandent pourquoi tout cela. Mais quand je les invite à bien regarder la figure et après quelques échanges, ils finissent par comprendre et arriver à construire la suite cherchée.

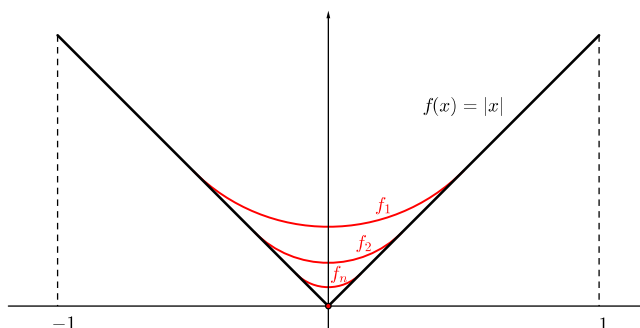


Fig. 8

Même s'il faut encore travailler afin de les dissuader de faire des calculs compliqués pour montrer qu'effectivement la suite  $f_n$  converge uniformément vers  $f$ , ils ne tardent pas à réaliser et à se convaincre que c'est le moyen le plus intuitif et le plus facile pour répondre à une question de ce genre. Ainsi, ils découvrent la vertu et la force du **regard géométrique**.

Je peux conter mille histoires du même genre. Toutes amènent à se demander pourquoi on va de façon aveugle vers la privation de l'enseignement des mathématiques de tous ces services que lui rend la géométrie. Car le vider de celle-ci, c'est y mettre fin une fois pour toutes.

On peut noter que toutes les démonstrations qu'on vient de donner, même quelquefois avec du calcul, restent géométriques ou impulsées par le regard géométrique qu'on porte sur la figure et ses éléments. Mais ce regard à lui seul est insuffisant sans les connaissances préalables pour pouvoir mener le raisonnement qui doit impérativement l'accompagner (par exemple, dans un triangle le plus grand angle est opposé au plus grand côté, argument dont nous avons usé dans la section 1). C'est donc un tout.

A-t-on la même chose pour une peinture ? Pas tout à fait comme on va le voir sur l'exemple qui suit.

## 6. Voici Médée !

Nous avons choisi le tableau ci-dessous (de Timonaque de Byzance) exposé au *Museo Archeologico Nazionale* à Naples mais provenant de la *Maison des Dioscures* à Pompéi.



On y voit une femme debout, regardant à sa droite et tenant un sabre à la main. Elle tourne le dos à deux enfants en train de jouer sous l'œil attentif d'un homme au fond de la salle. Qui est cette femme ? qui sont ces enfants ? qui est cet homme ? Que signifie cette scène ? La réponse à chacune de ces questions se trouve dans l'histoire de Médée. La voici donnée de façon brève.

Éeson était roi d'Iolcos en Thessalie mais fut chassé de son royaume par son frère Pélias. Son fils Jason fut recueilli par le centaure Chiron qui lui apprit non seulement la sagesse mais aussi l'art du combat. À l'âge adulte, il décida de revenir dans son pays pour aider son père à récupérer son trône. Pélias, ayant rencontré une vieille femme qui lui prédit sa mort par un vagabond, craignait ce retour. Il accepta alors de se démettre à condition que Jason ramène la Toison d'or qui se trouve en Colchide chez le roi Éetès, pendue à un chêne et gardée par un dragon, pensant ainsi qu'il ne pourra jamais y arriver. Jason se rendit chez Éetès. Celui-ci consentit à lui céder la Toison d'or s'il arrive à surmonter certaines épreuves difficiles. Médée, fille du roi, et connue par ses pouvoirs de sorcellerie, tomba amoureuse de Jason et l'aïda à décrocher cette toison. À son départ de Colchide, Ascylos, le frère de Médée, menaça Jason. Médée le tua, s'enfuit avec Jason et se donna à lui. Ils eurent deux enfants, Merméros et

Phérès. À leur retour à Iolcos, Pélias n'a pas tenu sa promesse et Médée le tua en le faisant bouillir dans une cuve. Médée et Jason se réfugièrent alors chez le roi Créon de Corinthe. Mais ce dernier ignora l'existence de Médée et offrit sa fille Creüse à Jason, celui-ci répudia Médée et épousa Creüse dont il fut épris et parce qu'elle était grecque comme lui. Médée, foudroyée par ce qui lui arriva et complètement rattrapée par ses instincts meurtriers, tua sa rivale et égorgea ses deux enfants pour se venger de Jason.

C'est ce dernier instant précis que décrit le peintre : les enfants jouent sous le regard de leur éducateur qui ne se doute de rien ; Médée se tient devant, un sabre à la main et dans un mouvement de rotation qui l'amène vers eux pour accomplir son geste. Voici ce qu'en dit Pascal Quignard dans [3] :

*« Dans la fresque de la maison de Jason, les regards des enfants et de leur mère sont croisés. Le pédagogue regarde Merméros et Phérès. Il y a deux interprétations possibles de l'attitude et du regard de Médée. Ou bien, se recueillant avant le crime, elle est partagée entre deux sentiments qui sont contraires : la pitié et la vengeance ; en elle la mère et la femme s'opposent ; elle hésite entre l'abstention de l'acte et la férocité d'un double infanticide. Ou bien, se recueillant devant le crime, monte en elle l'irrésistible colère, l'irrésistible acte, l'irrésistible instant de mort. La première interprétation est psychologique. La seconde est non psychologique, physiologique, tragique. C'est la seule interprétation possible parce que c'est celle du texte que les fresques condensent. Parce que c'est celle d'Euripide. »*

Pour l'observateur  $\lambda$ , il est impossible de deviner cela s'il ne connaît pas l'histoire de Médée. Il y a donc une différence fondamentale entre le regard que jette le géomètre sur une figure et celui de l'historien de l'art sur un tableau : le premier dispose de règles d'observation qui lui permettent d'examiner chaque figure dans un cadre assez général, le deuxième a besoin de connaître l'histoire des objets, des personnages... dans chaque tableau pris individuellement.

## Références

- [1] COXETER, H.S.M. & GREITZER, S.L. *Redécouvrons la géométrie*. Dunod (1971).
- [2] EL KACIMI ALAOU, A. *Cohomologie feuilletée du flot affine de Reeb sur  $\mathbb{S}^n \times \mathbb{S}^1$* . *Grad. J. Math.* 4 (2019), n° 2, 85-95.
- [3] QUIGNARD, P. *Le sexe et l'effroi*. Collection Folio, numéro 2839, (page 189).
- [4] SARTRE, J.-P. *L'être et le néant (essai d'ontologie phénoménologique)*. Collection Tel, Gallimard, (Page 251).

**Aziz El Kacimi Alaoui**  
**Université Polytechnique Hauts-de-France**  
**INSA Hauts-de-France, CERAMATHS**  
**F-59313 Valenciennes, France**  
**aziz.elkacimi@uphf.fr**  
**<http://perso.numericable.fr/azizelkacimi/>**